

割合の文章題1

目標時間 10分

NO. 2

名前

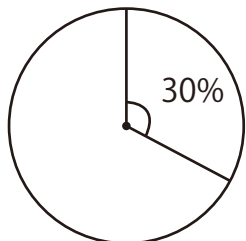
／3

◆次の問題に答えましょう。

- ① クラスに男子は 18 人、女子は 20 人います。
 男子の数は女子の数の何 % にあたりますか。

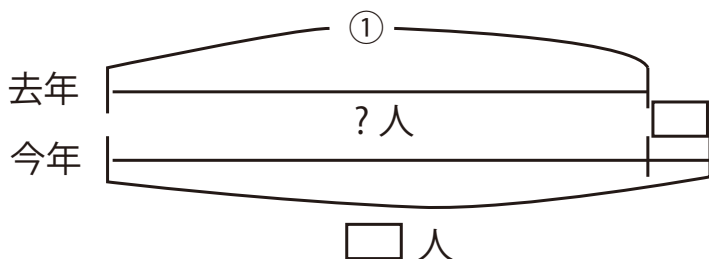
式

- ② 円グラフで、 30 %にあたる部分の中心の角度は何度になりますか。



式

- ③ ある学校の今年の子童数は 819 人で、去年より 5 % 増えています。去年の子童の数は何人でしたか。



式

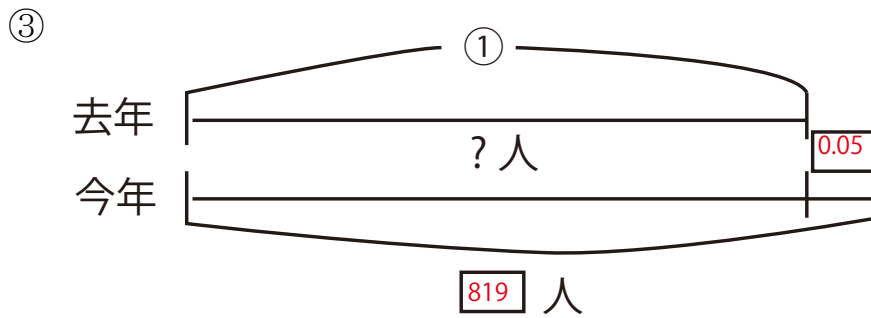
答え

① $18 \div 20 = 0.9$

90 %

② 全体が 360°
 $360 \times 0.3 = 108$

108 $^\circ$



$1 + 0.05 = 1.05$
 $819 \div 1.05 = 780$

780 人