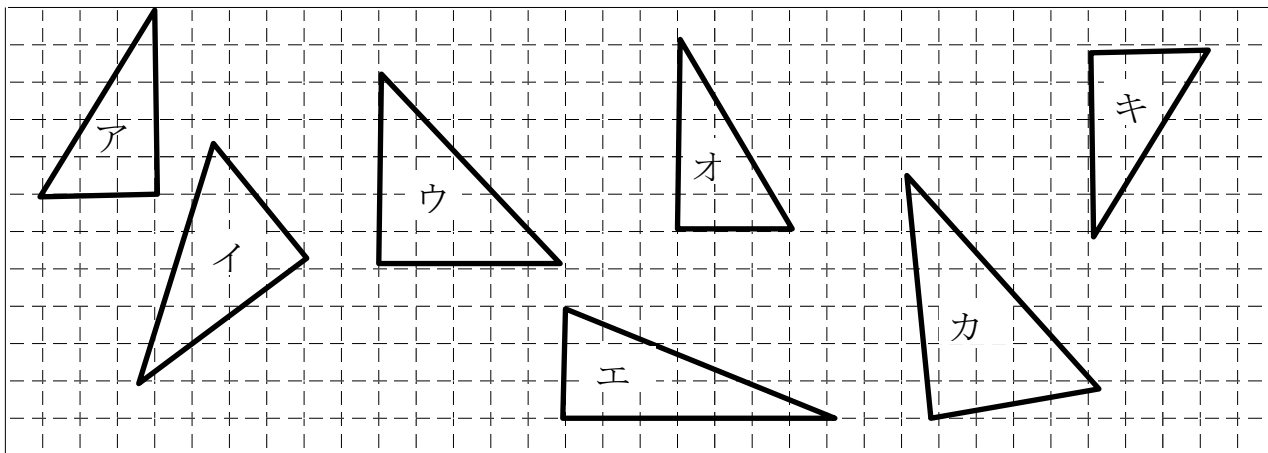


合同な形 1

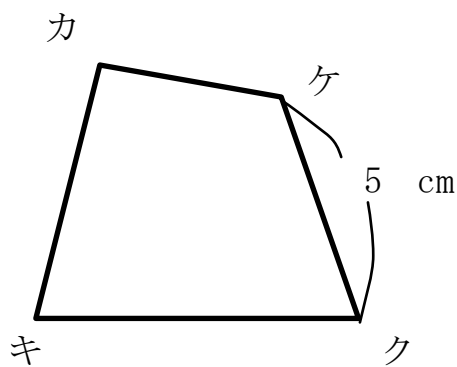
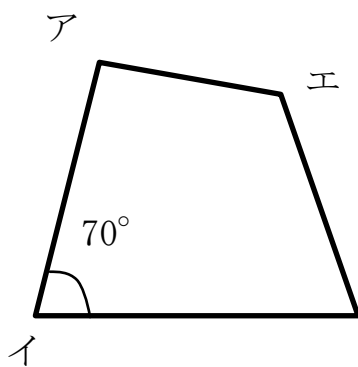
目標時間 5分

名前 _____ / 点

1 アと合同な三角形をすべて選びましょう。



2 下の2つの四角形は合同です。これについて次の問いに答えなさい。



① 頂点アに対応する頂点はどれですか。

② 辺アエに対応する頂点はどれですか。

③ 辺エウの長さは何cmですか。

④ 角キの大きさは何度ですか。

答え

1 オ、キ

2 ① カ ② 辺カケ ③ 5 cm

④ 70°