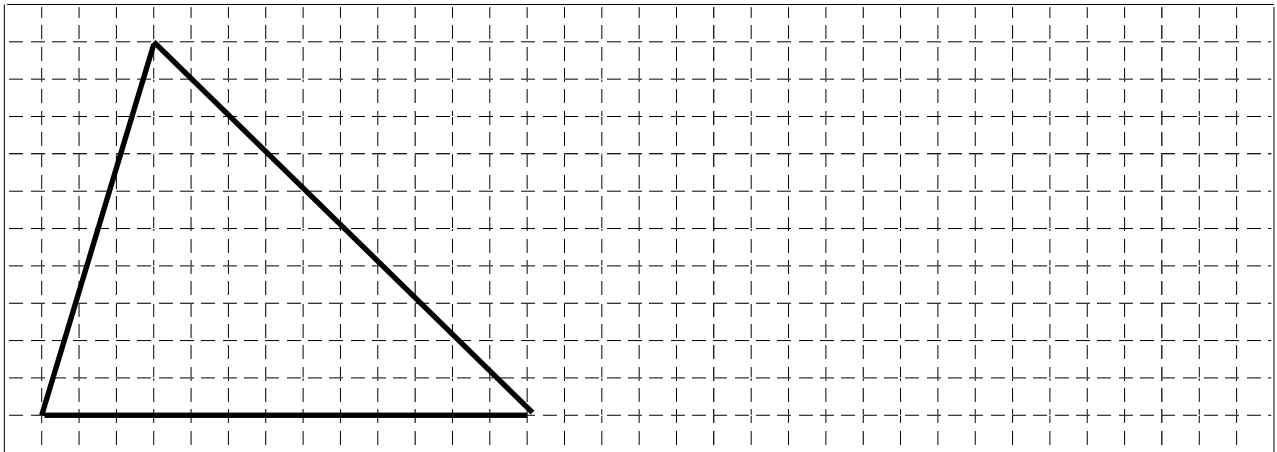


合同な形 2

目標時間 5分

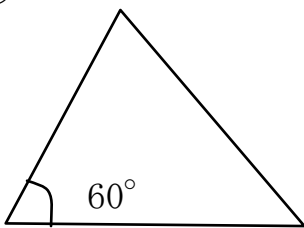
名前 _____ / 点 _____

1 下の三角形と合同な三角形を書きましょう。

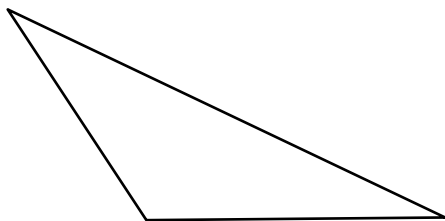


2 次の三角形と合同な三角形をかきましょう。
*コンパスや分度器を使ったあとを消さないこと。

①



②



③

