

合同な図形 作図

目標時間 5分

NO. 2

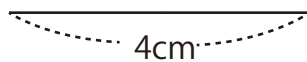
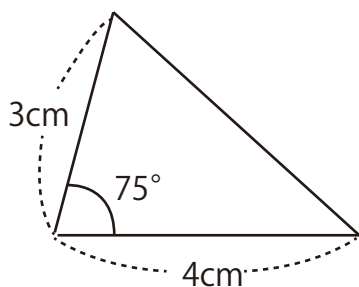
名前 _____

_____/_____
点

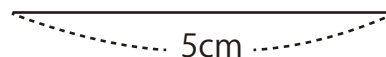
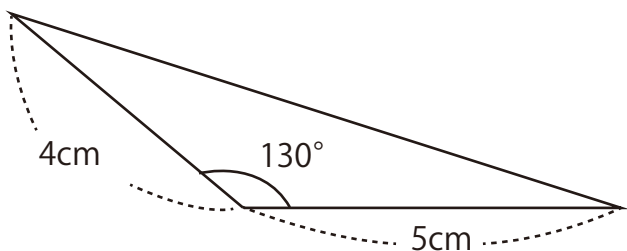
次の三角形と合同な三角形をかきましょう。

*コンパスや分度器を使ったあとを消さないこと。

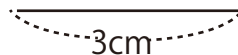
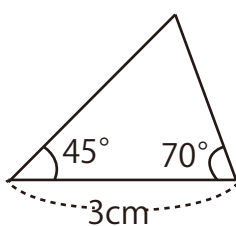
①



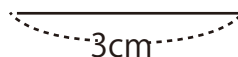
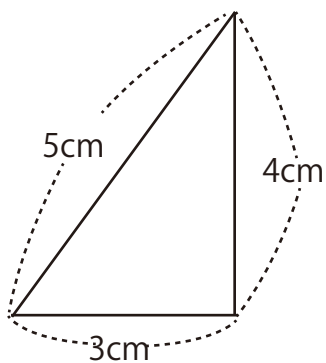
②



③



④



答え

定規と分度器で確認しましょう。