

## 角柱と円柱 1

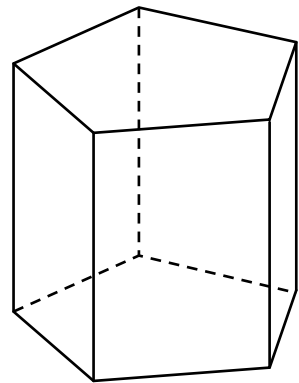
目標時間

5分

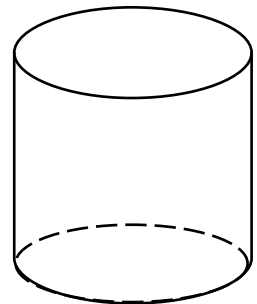
名前

/ 10 点

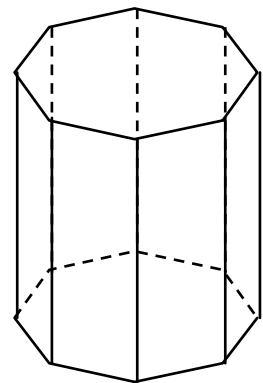
1 次の立体について答えましょう。

① 右のような立体を  といいます。② 上下にある五角形の面を まわりの長方形の面を  といいます。③ この立体の頂点の数は  個です。

2 次の立体について答えましょう。

① 立体の名前を書きましょう。 ② 底面はどんな形ですか。 ③ 曲面になっているのは、この立体のどの部分ですか。 

3 次の立体について答えましょう。

① 立体の名前を書きましょう。 ② 側面はどんな形ですか。 ③ 底面はどんな形ですか。 

## 答え

1

- ① 五角柱
- ② 底面、側面
- ③ 10

2

- ① 円柱
- ② 円
- ③ 側面

3

- ① 八角柱
- ② 長方形
- ③ 八角形