

直方体と立方体の体積

目標時間	5分
------	----

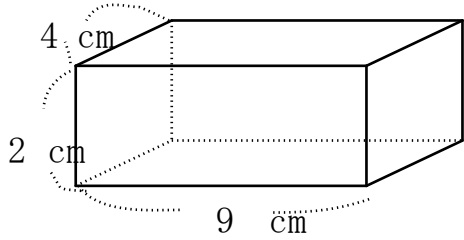
NO. 2

名前

/4

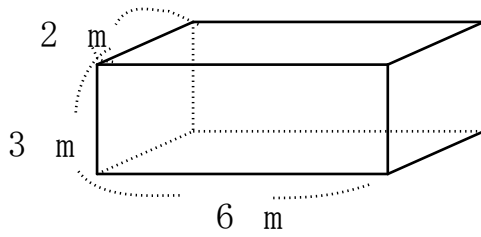
1 次の直方体の体積を求めましょう。

①



式

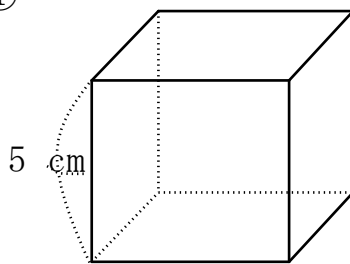
②



式

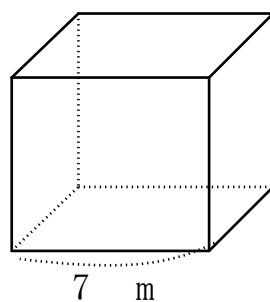
2 次の立方体の体積をもとめましょう。

①



式

②



式

答え

1

$$\textcircled{1} \quad 4 \times 9 \times 2 = 72 \quad 72 \text{ cm}^3$$

$$\textcircled{2} \quad 2 \times 6 \times 3 = 36 \quad 36 \text{ m}^3$$

2

$$\textcircled{1} \quad 5 \times 5 \times 5 = 125 \quad 125 \text{ cm}^3$$

$$\textcircled{2} \quad 7 \times 7 \times 7 = 343 \quad 343 \text{ m}^3$$