


# 対称な図形 まとめ

目標時間 7分

NO.2 名前

/ 点

1 次のア～クについて、次の問題に答えましょう。



① 線対称な図形はどれですか。

② 点対称な図形はどれですか。

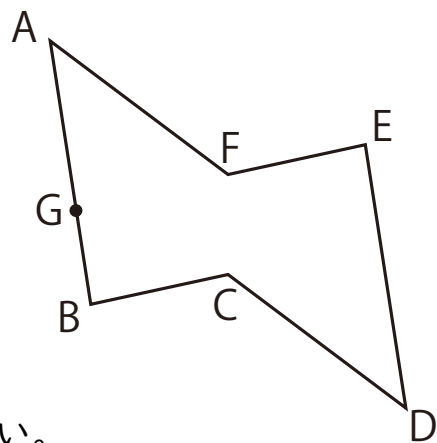
2 右の図は点対称な図形です。

① 対称の中心Oを、図の中に書きなさい。

② 辺EFに対応する辺はどれですか。

( )

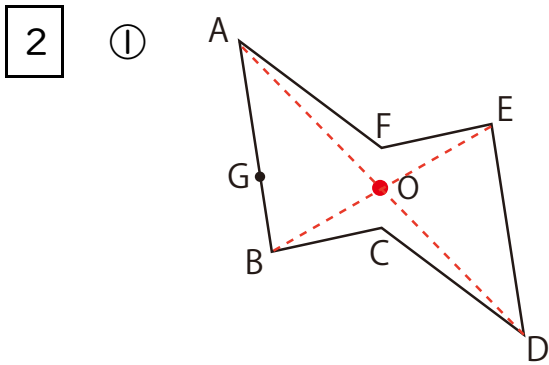
③ 点Gに対応する点Hを図の中に書きなさい。



答え

1 ① ア , イ , ウ , エ , オ , キ

② イ , ウ , カ , ク



② 辺BC

