

対称な図形 まとめ

目標時間 7分

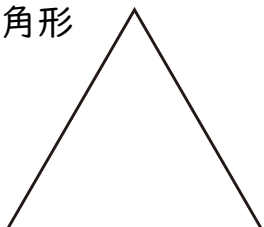
NO.4

名前 _____

_____/_____
点

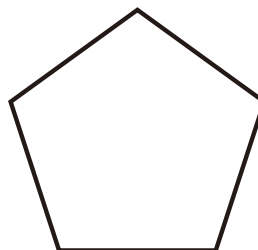
1 次の図形の対称の軸は何本ありますか。

① 正三角形



()

② 正五角形



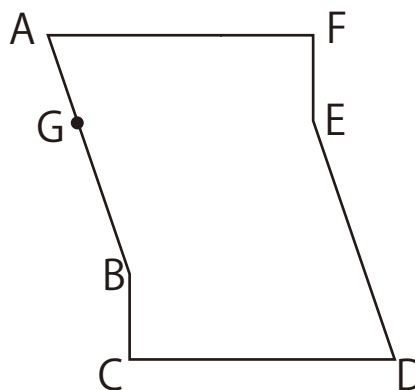
()

2 右の図は点対称な図形です。

① 対称の中心Oを、図の中に書きなさい。

② 辺EFに対応する辺はどれですか。

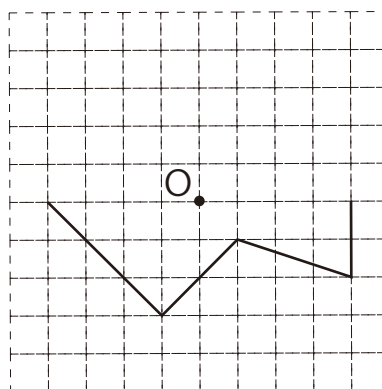
()



③ 点Gに対応する点Hを図の中に書きなさい。

3 右の図は、点Oを対称の中心とした
点対称な図形の半分です。

残りの半分をかきましょう。



答え

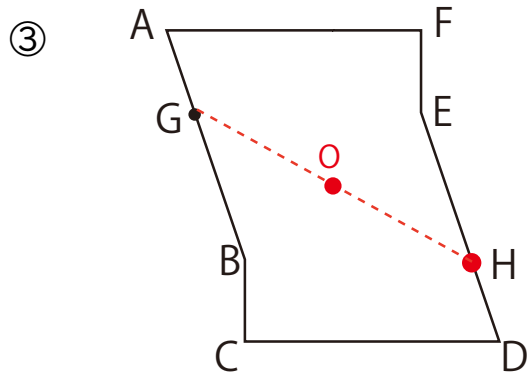
1

① 3本

② 5本

2

①  ② 辺BC



3

