

角の大きさをはかる 1

目標時間	8分
------	----

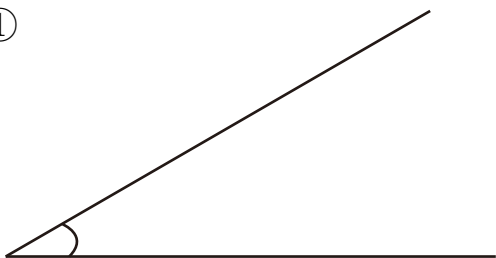
NO. 1

名前

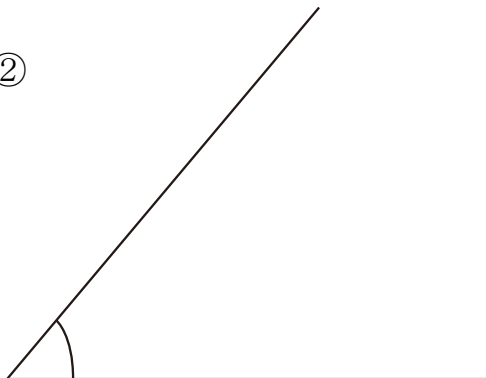
／6

分度器を使って、角度をはかりましょう。


①



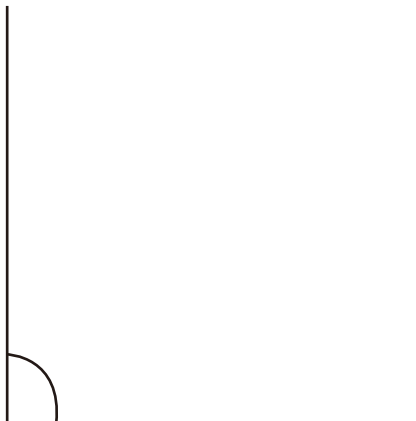
②




③



④



⑤



⑥



角度

角の大きさをはかる 1-1

答え

① 30° ② 50° ③ 80° ④ 90°

⑤ 120° ⑥ 170°