

三角じょうぎ

| | |
|------|-----|
| 目標時間 | 15分 |
|------|-----|

NO. 3

名前: _____

_____/6

◆三角じょうぎや三角じょうぎを組み合わせたときにできるア～コの角度は何度ですか。

ア

イ

ウ

エ

オ

カ

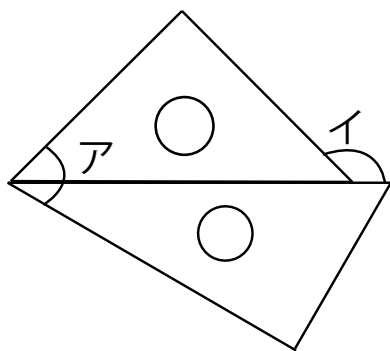
キ

ク

ケ

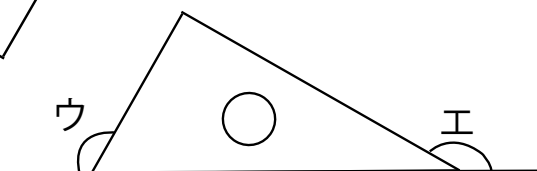
コ

答え



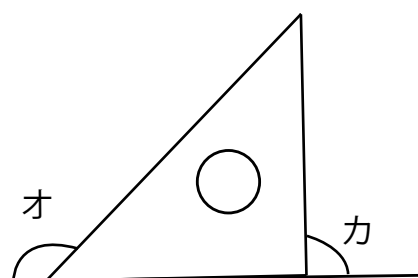
ア

$45 + 30 = 75$



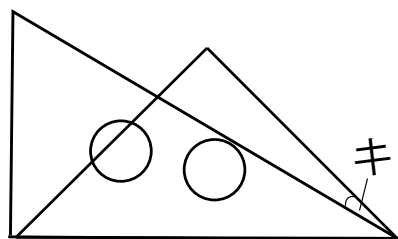
イ

$180 - 45 = 135$



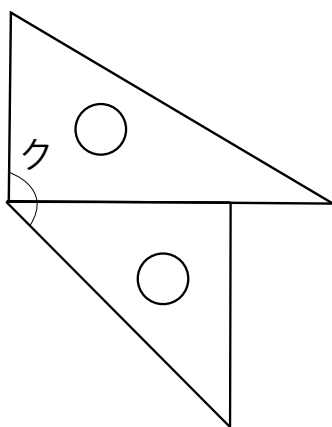
ウ

$180 - 60 = 120$



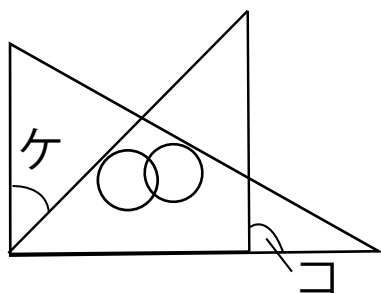
エ

$180 - 30 = 150$



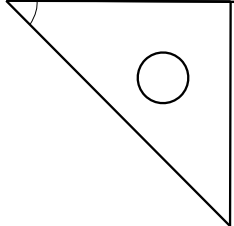
オ

$180 - 45 = 135$



カ

$180 - 90 = 90$



キ

$45 - 30 = 15$

ク

$90 + 45 = 135$

ケ

$90 - 45 = 45$

コ

$180 - 90 = 90$