

小数の大きさ 1

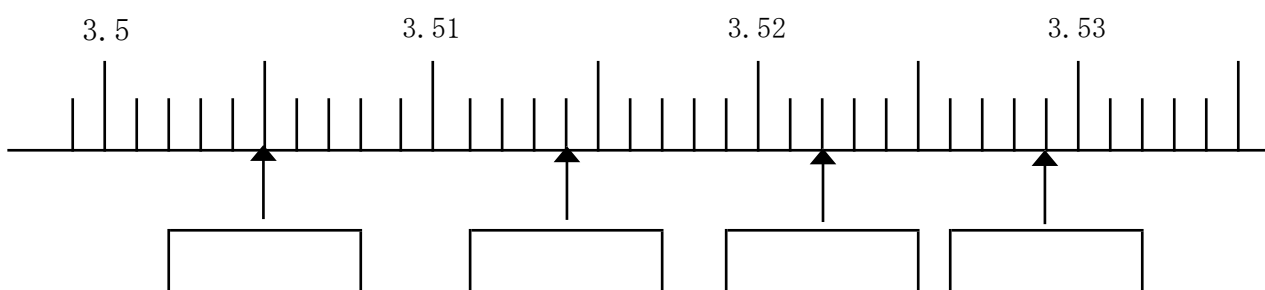
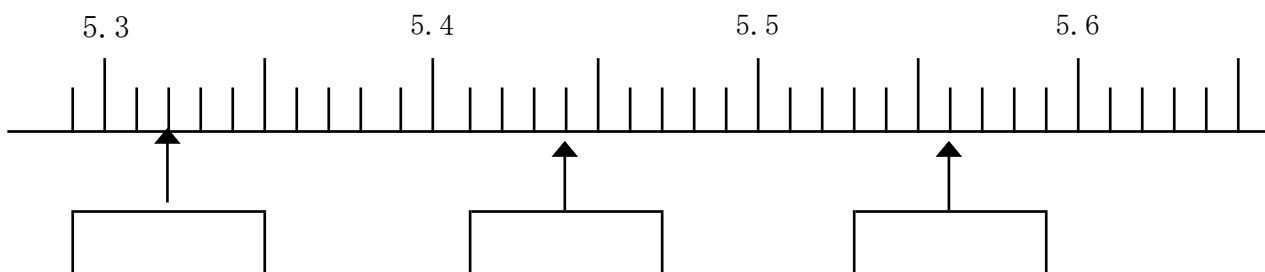
目標時間 10分

NO. 2

名前

／16 点

1 □にあてはまる数を書きましょう。



2 大きい順にならべましょう。

- ① 1.08 0.95 1.23 1.05

□

- ② 3.8 3 3.562 2.798

□

- ③ 0.52 0.523 0.43 0.054

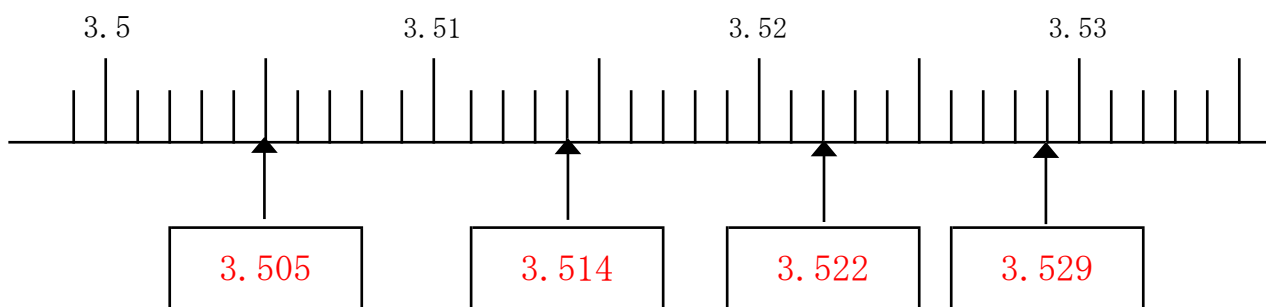
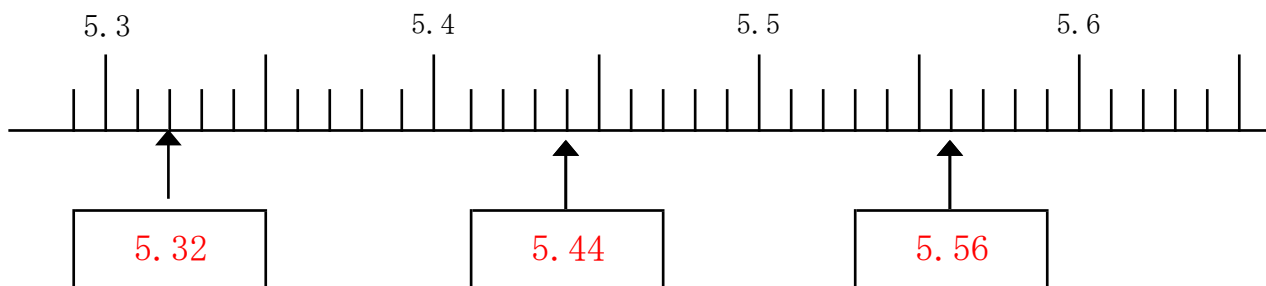
□

- ④ 5.21 52.1 521 0.521

□

答え

1



2

① 1.23 1.08 1.05 0.95

② 3.8 3.562 3 2.798

③ 0.523 0.52 0.43 0.054

④ 521 52.1 5.21 0.521