

直方体と立方体の体積

目標時間	10分
------	-----

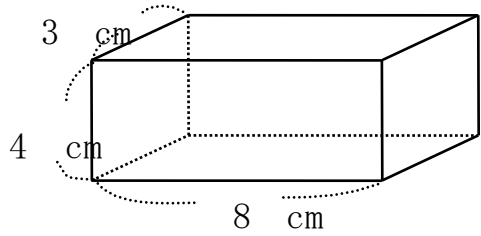
NO. 1

名前

／4

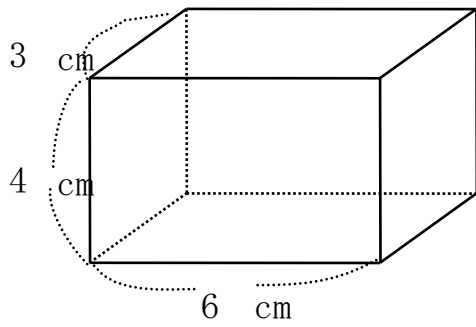
1 次の体積を求めましょう。

①



式

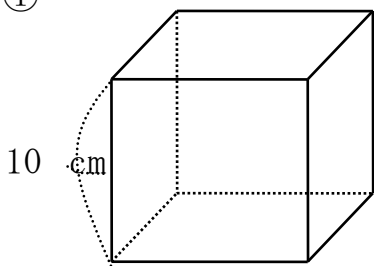
②



式

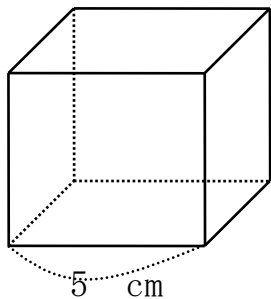
2 次の立方体の体積をもとめましょう。

①



式

②



式

答え

1

$$\textcircled{1} \quad 3 \times 8 \times 4 = 96 \quad 96 \text{ cm}^3$$

$$\textcircled{2} \quad 3 \times 6 \times 4 = 72 \quad 72 \text{ cm}^3$$

2

$$\textcircled{1} \quad 10 \times 10 \times 10 = 1000 \quad 1000 \text{ cm}^3$$

$$\textcircled{2} \quad 5 \times 5 \times 5 = 125 \quad 125 \text{ cm}^3$$