

# 円の面積1

目標時間	8分
------	----

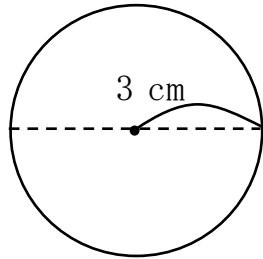
NO. 1

名前

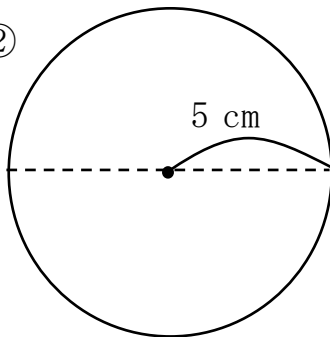
/ 4

◆円周率を 3.14 として、次の円の面積を求めましょう。

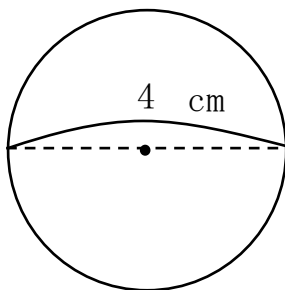
①



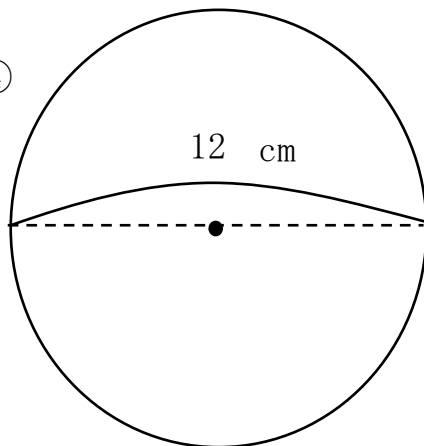
②



③



④



## 答え

① 式  $3 \times 3 \times 3.14 = 28.26$

$$28.26 \text{ cm}^2$$

② 式  $5 \times 5 \times 3.14 = 78.5$

$$78.5 \text{ cm}^2$$

③ 式  $2 \times 2 \times 3.14 = 12.56$

$$12.56 \text{ cm}^2$$

④ 式  $6 \times 6 \times 3.14 = 113.04$

$$113.04 \text{ cm}^2$$