

平行四辺形の面積 1

目標時間	5分
------	----

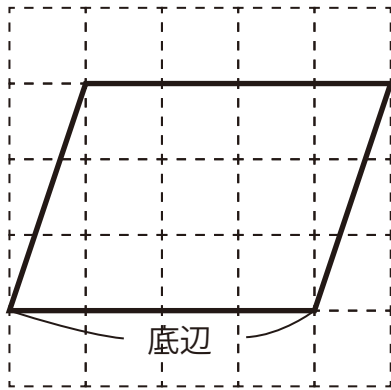
NO. 2

名前 _____

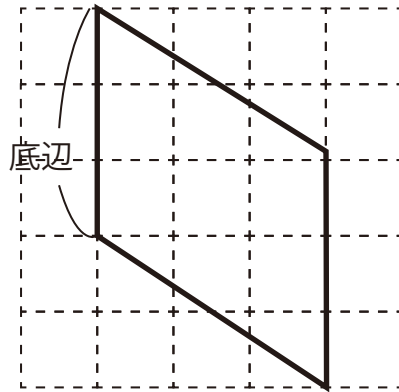
_____ / _____

1 下の図は1目盛りが1cmの方眼紙です。
平行四辺形の底辺に対する高さを求めましょう。

①

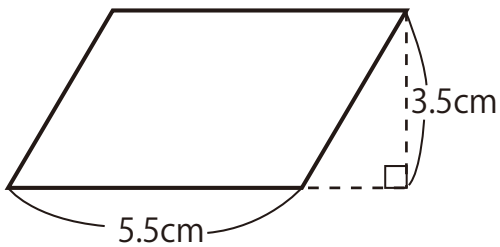


②

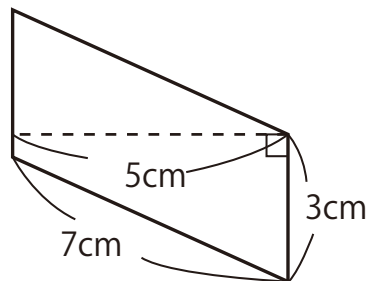


2 次の平行四辺形の面積を求めましょう。

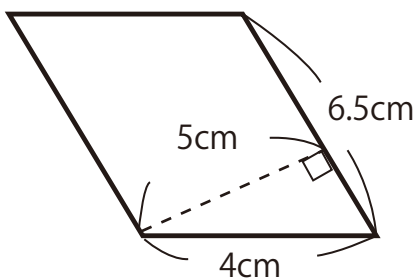
①



②



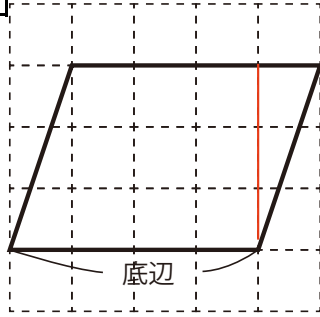
③



答え

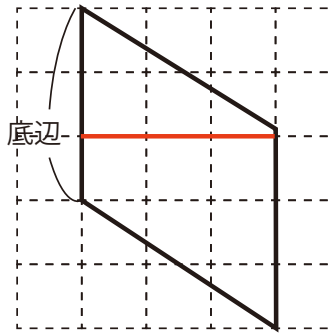
1

①



3 cm

②



3 cm

2

① $5.5 \times 3.5 = 19.25$

19.25 cm²

② $3 \times 5 = 15$

15 cm²

③ $6.5 \times 5 = 32.5$

32.5 cm²