

くらべる量をもとめる 1

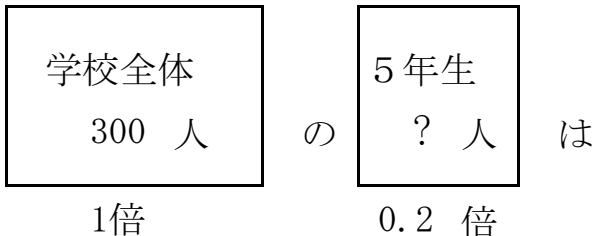
目標時間 10分

NO. 1

名前

／ 3

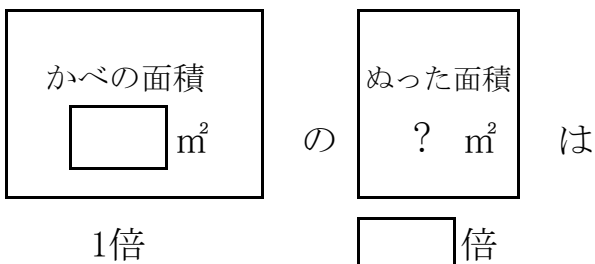
1 ある学校全体の人数は 300 人です。 そのうち 20 % が 5 年生です。 5 年生は何人ですか。



式

答え _____

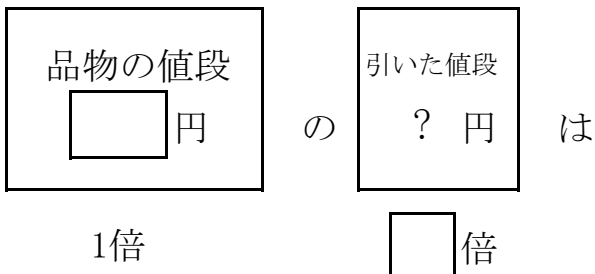
2 かべの面積は 80 m²で、そのうち 35 %をペンキでぬりました。 何m²をペンキでぬりましたか。



式

答え _____

3 3000 円の品物があります。 2 割のねだんを引いてくれました。 いくら引いてくれましたか。

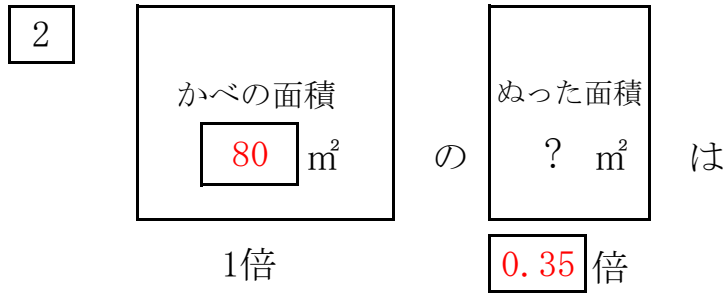


式

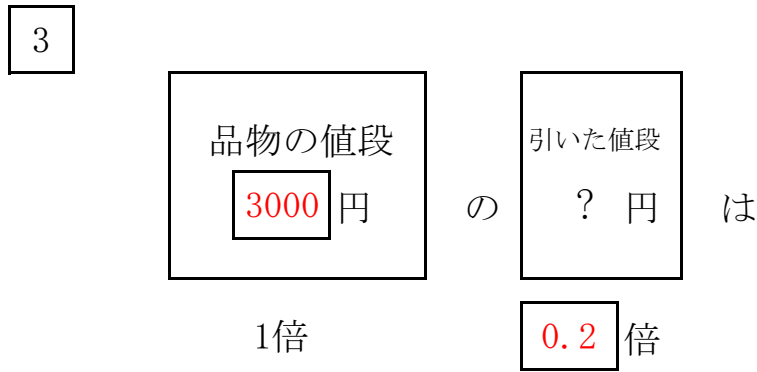
答え _____

答え

1 $300 \times 0.2 = 60$ 答え 60 人



$80 \times 0.35 = 28$ 答え 28 m²



$3000 \times 0.2 = 600$ 答え 600 円