

くらべる量をもとめる 1

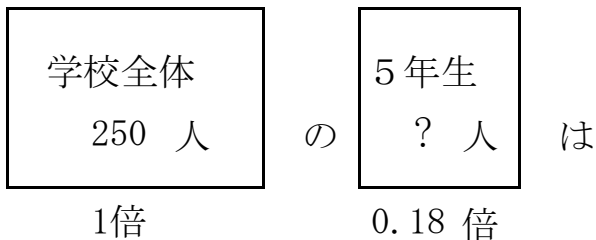
目標時間 10分

NO.2

名前

／3

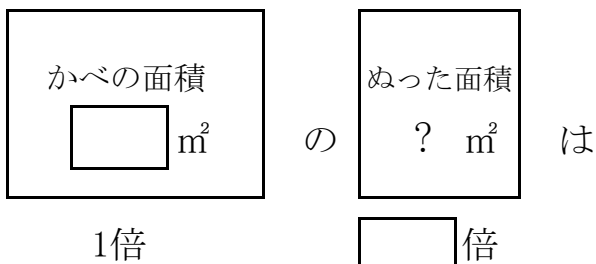
1 ある学校全体の人数は 250 人です。 そのうち 18 % が 5 年生です。 5 年生は何人ですか。



式

答え _____

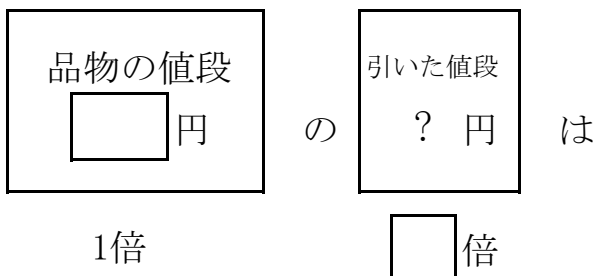
2 かべの面積は 60 m²で、そのうち 25 %をペンキでぬりました。 何m²をペンキでぬりましたか。



式

答え _____

3 5000 円の品物があります。 3 割のねだんを引いてくれました。 いくら引いてくれましたか。

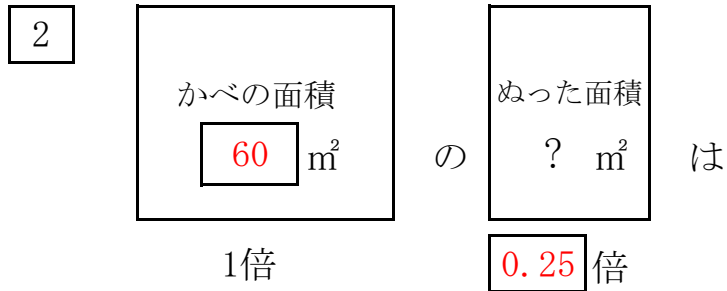


式

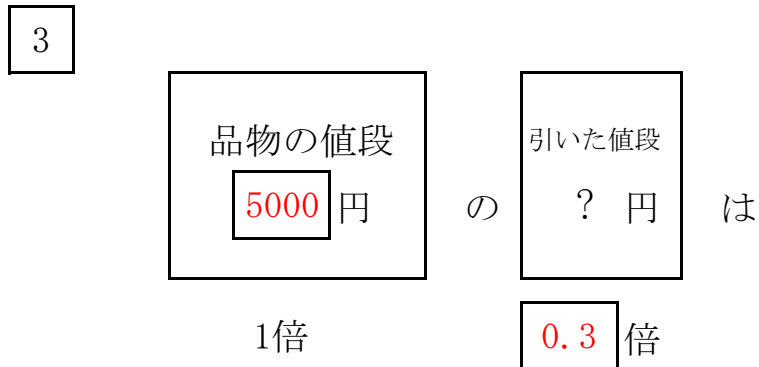
答え _____

答え

1 $250 \times 0.18 = 45$ 答え 45 人



$60 \times 0.25 = 15$ 答え 15 m²



$5000 \times 0.3 = 1500$ 答え 1500 円