

もとにする量を求める

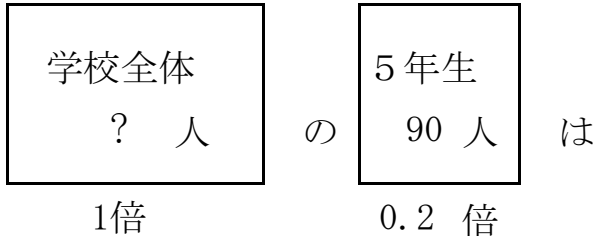
目標時間 10分

NO. 1

名前

/ 3

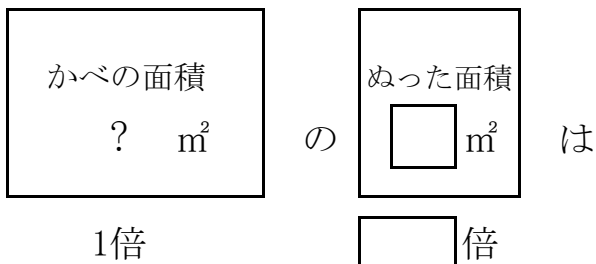
- 1 ある学校の5年生の人数は 90 人です。これは、学校全体の 20 % にあたります。学校全体の人数は、何人ですか。



式

答え

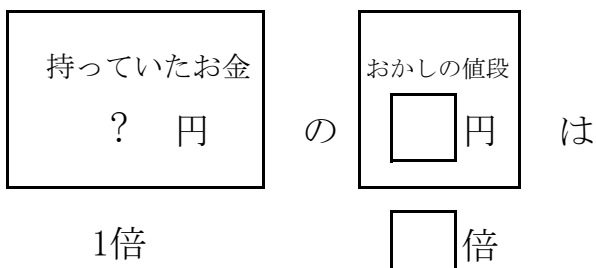
- 2 ペンキで壁を 60 m^2 ぬりました。これはかべ全体の面積の 40 % になります。かべ全体の面積は何 m^2 ですか。



式

答え

- 3 ゆきさんは、240 円のおかしを買いました。これは、はじめに持っていたお金の 3 割にあたります。ゆきさんは、はじめ何円持っていましたか。



式

答え

答え

1 $90 \div 0.2 = 450$ 答え 450 人

2

かべの面積 ? m ²	の	ぬった面積 60 m ²	は
1倍		0.4倍	

$60 \div 0.4 = 150$ 答え 150 m²

3

持っていたお金 ? 円	の	お菓しの値段 240 円	は
1倍		0.3倍	

$240 \div 0.3 = 800$ 答え 800 円