

もとにする量をもとめる 1

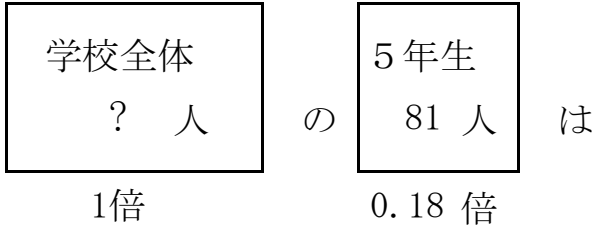
目標時間 10分

NO.2

名前

/ 3

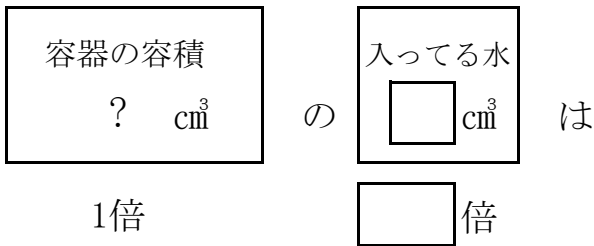
- 1 ある学校の5年生の人数は 81 人です。これは、学校全体の 18 % にあたります。 学校全体の人数は、何人ですか。



式

答え _____

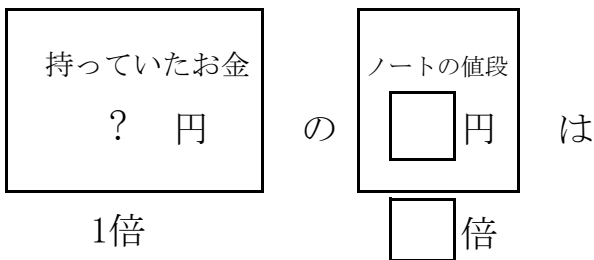
- 2 ある容器に 300 cm³ の水が入っています。これは容器全体の 20 %になります。 この容器の容積は何cm³ですか。



式

答え _____

- 3 みきさんは、 120 円のノート買いました。これは、はじめに持っていたお金の 1 割 5 分にあたります。 みきさんは、はじめ何円持っていましたか。

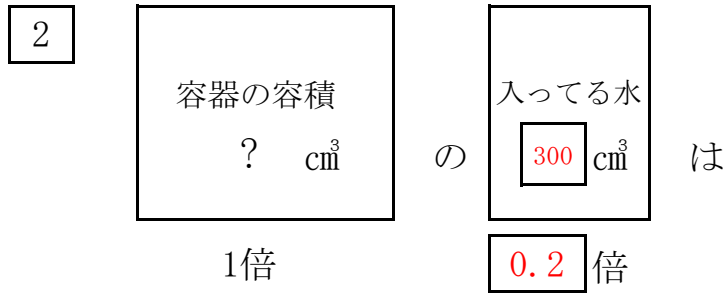


式

答え _____

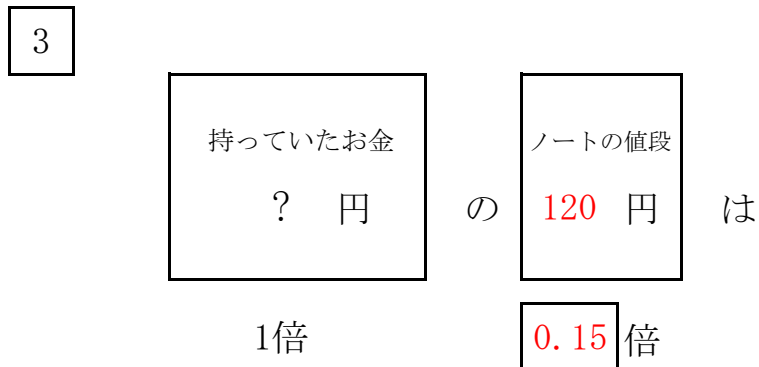
答え

1 $81 \div 0.18 = 450$ 答え 450 人



$$300 \div 0.2 = 1500$$

答え 1500 cm³



$$120 \div 0.15 = 800$$

答え 800 円