

割合をもとめる 1

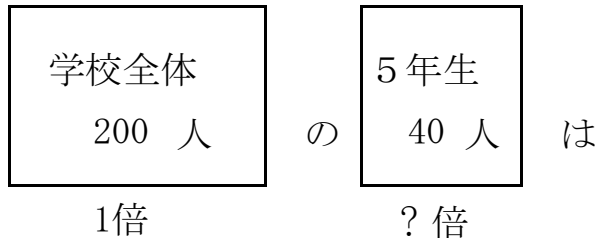
目標時間 10分

NO. 1

名前

/4

- 1 学校の5年生の人数は 40 人です。学校全体の人数は 200 人です。



- ① 5年生 は学校全体の何倍ですか。

式

答え

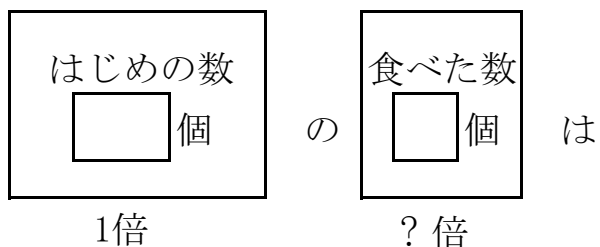
- ② 5年生 は学校全体の何%になりますか。

答え

- ③ 5年生 は学校全体の何割になりますか。

答え

- 2 キャンディーが 20 個ありました。そのうち 8 個食べました。食べたキャンディーは、はじめのキャンディーの何%になりますか。



式

答え

答え

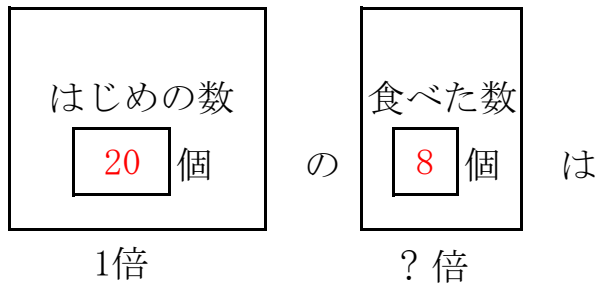
1

$$\textcircled{1} \quad 40 \div 200 = 0.2 \quad \text{答え} \quad \underline{0.2 \text{ 倍}}$$

$$\textcircled{2} \quad 0.2 = 20 \% \quad \text{答え} \quad \underline{20 \%}$$

$$\textcircled{3} \quad 0.2 = 2 \text{ 割} \quad \text{答え} \quad \underline{2 \text{ 割}}$$

2



$$8 \div 20 = 0.4$$

$$0.4 = 40 \% \quad \text{答え} \quad \underline{40 \%}$$