

# 平行

目標時間	5分
------	----

NO. 1

名前
----

---

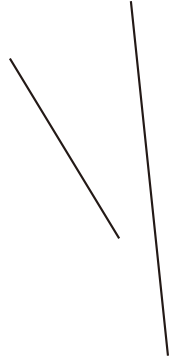
---

次の2本のが平行になっているものをすべて選びなさい。

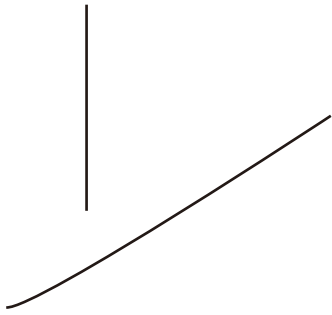
①




②



③



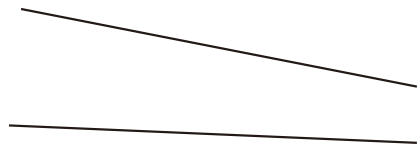
④



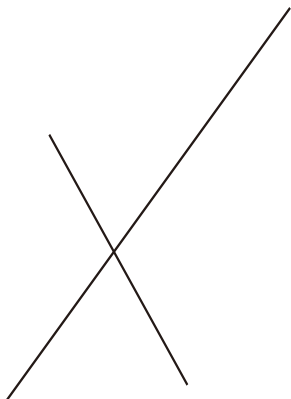
⑤



⑥



⑦



⑧



答え

- ① ④ ⑤ ⑧