

平行

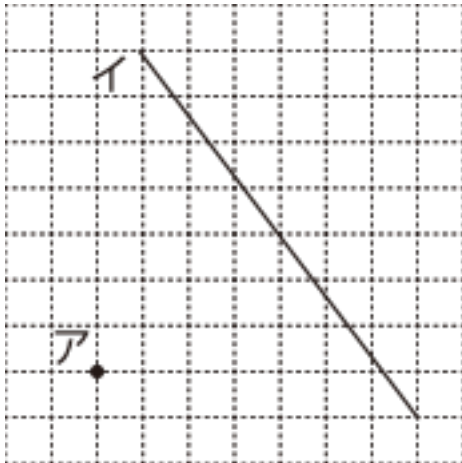
目標時間	5分
------	----

NO.2

名前	
----	--

1 点アを通り直線イに平行な直線をひきましょう。
 (方眼紙を利用しましょう。)

①



②

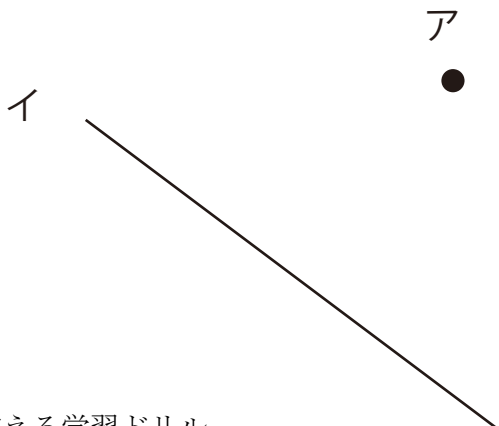


2 点アを通り直線イに垂直な直線をひきましょう。
 (三角定規を使いましょう。)

①



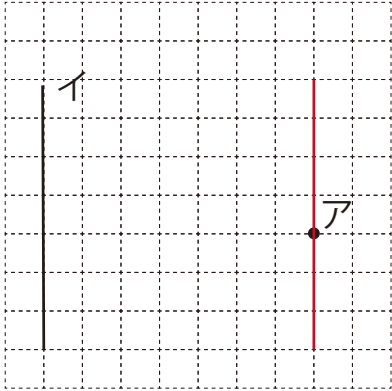
②



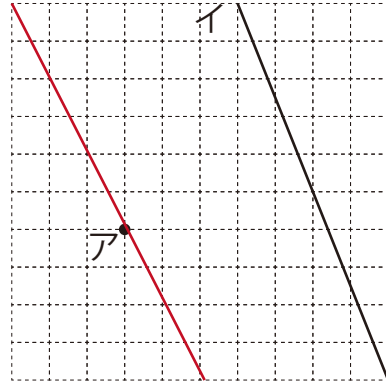
答え

1

①



②



2

①



②

