

四角形のまとめ

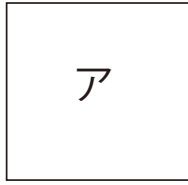
目標時間	5分
------	----

NO. 1

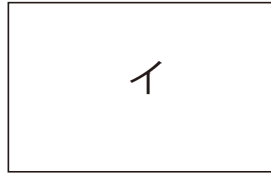
名前

/ 5

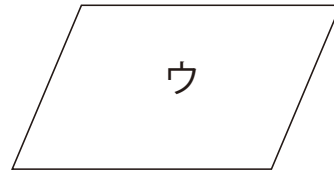
下の四角形を見て、問題に答えましょう。



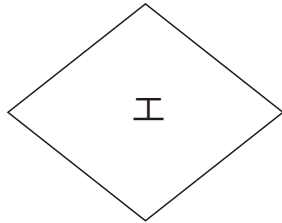
正方形



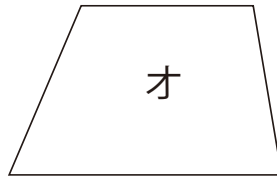
長方形



平行四辺形



ひし形



台形

- ① 1組の向かいあった辺だけが平行な四角形をすべて選んで記号で書きましょう。

- ② 2組の向かいあった辺が平行な四角形をすべて選んで記号で書きましょう。

- ③ 4つの角がそれぞれ直角な四角形をすべて選んで記号で書きましょう。

- ④ 4つの辺の長さが等しい四角形をすべて選んで記号で書きましょう。

- ⑤ 4つの辺の長さが等しく、4つの角が直角な四角形をすべて選んで記号で書きましょう。

答え

① オ

② ア イ ウ エ

③ ア イ

④ ア エ

⑤ ア