

# 四角形のまとめ

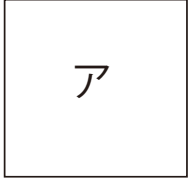
目標時間	5分
------	----

NO. 2

名前

/ 3

下の四角形を見て，問題に答えましょう。



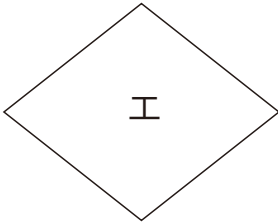
正方形



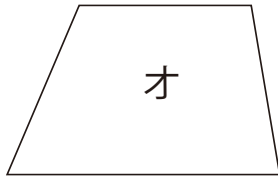
長方形



平行四辺形



ひし形



台形

- ① 平行な辺が2組ある四角形をすべて選んで記号で書きましょう。

- ② 平行な辺が1組だけある四角形をすべて選んで記号で書きましょう。

- ③ 4つの角の大きさが等しい四角形をすべて選んで記号で書きましょう。

- ④ 向かい合った辺の長さが等しい四角形をすべて選んで記号で書きましょう。

- ⑤ 向かいあった角の大きさが等しい四角形をすべて選んで記号で書きましょう。

答え

① ア イ ウ エ

② オ

③ ア イ

④ ア イ ウ エ

⑤ ア イ ウ エ