

# 四角形のまとめ

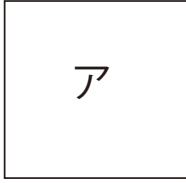
目標時間	8分
------	----

NO. 3

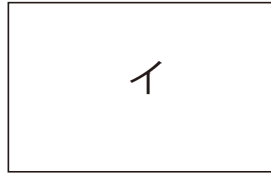
名前	
----	--

/3
----

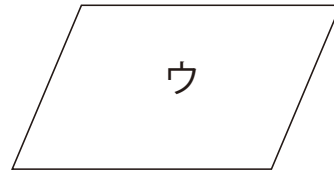
1 下の四角形を見て、問題に答えましょう。



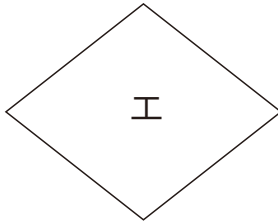
正方形



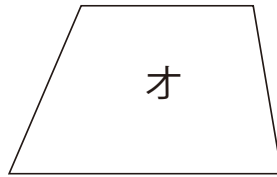
長方形



平行四辺形



ひし形



台形

① 2本の対角線の長さが等しい四角形をすべてえらんで、記号を書きましょう。

--

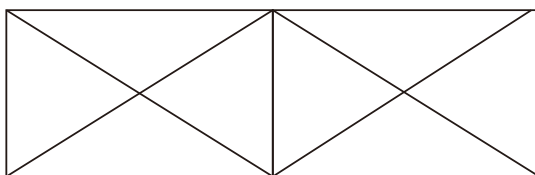
② 対角線が交わった点から4つのちょう点までの長さがみな等しい四角形をすべてえらんで、記号を書きましょう。

--

③ 2本の対角線が垂直である四角形をすべてえらんで、記号を書きましょう。

--

2 下の図は同じ大きさの長方形をならべたものです。ひし形と平行四辺形はそれぞれいくつありますか。



ひし形

--

平行四辺形

--

答え

1

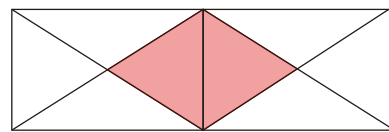
① ア イ

② ア イ

③ ア エ

2

ひし形 1こ



平行四辺形 2こ

