

四角形の対角線

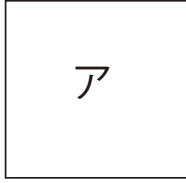
目標時間	5分
------	----

NO. 2

名前

/ 4

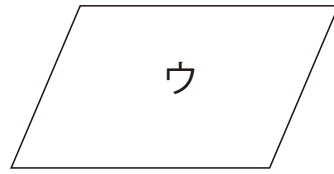
下の四角形を見て、問題に答えましょう。



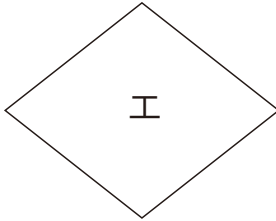
正方形



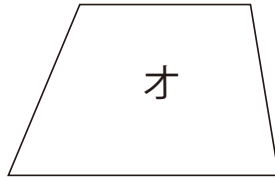
長方形



平行四辺形



ひし形



台形

① 対角線の長さが同じ四角形をすべて選び記号で書きましょう。

② 対角線が垂直に交わる」角形をすべて選び記号で書きましょう。

③ 対角線がそれぞれたがいの中心で交わる四角形をすべて
選び記号で書きましょう。

④ 対角線の長さは同じで、垂直に交わり、それぞれたがいの中心で
交わる四角形をすべて選び、記号で書きましょう。

答え

① ア イ

② ア エ

③ ア イ ウ エ

④ ア