

四角形の対角線

目標時間	5分
------	----

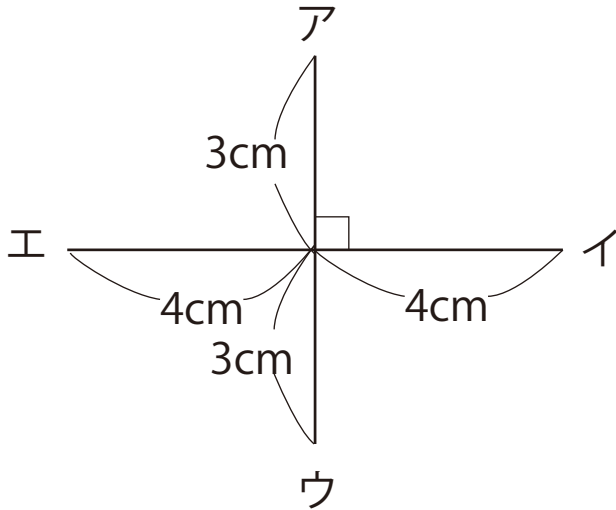
NO. 3

名前

/ 3

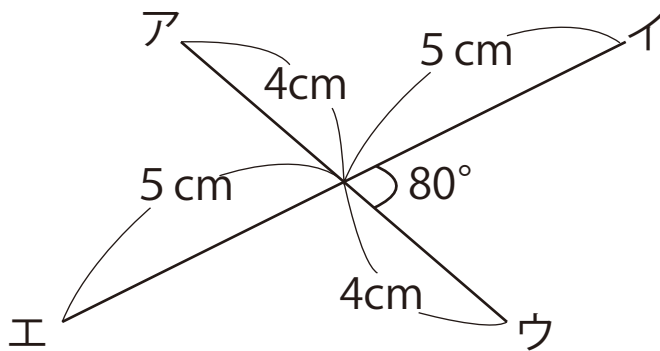
◇ 下の図で、ア、イ、ウ、エを直線でつなぐと、何という四角形ができるか、() に書きましょう。

①



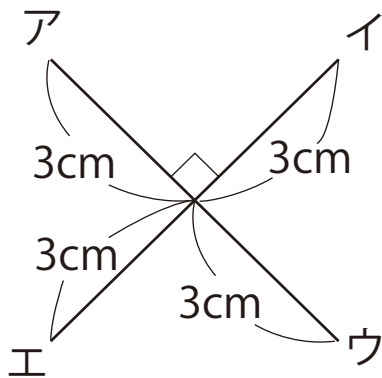
()

②



()

③



()

答え

① ひし形 ② 平行四辺形

③ 正方形